







Le repérage et le déplacement

Fiche

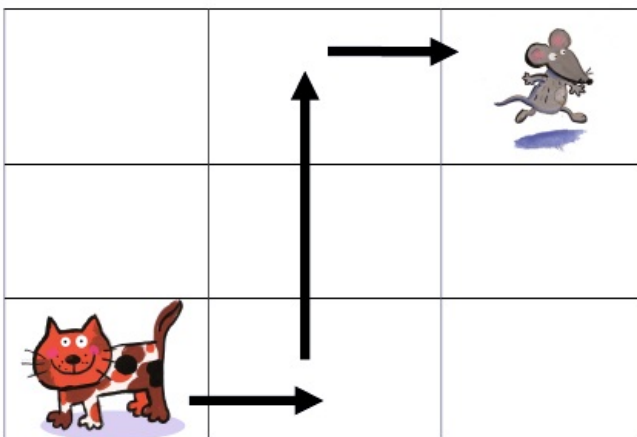
Dans ce tableau, pour retrouver l'**emplacement** de chaque fruit, il faut regarder le **nom de la colonne** et le **numéro de la ligne** :

- A1 pour la fraise ;
- A4 pour l'abricot ;
- B2 pour la pomme ;
- C4 pour la banane ;
- D3 pour l'orange.

	A	B	C	D
1				
2				
3				
4				

Si l'on veut ajouter du raisin dans la **case D2**, il faut suivre la **ligne 2** et la **colonne D**. Observe les pointillés et tu trouveras la bonne case.

Pour se déplacer dans un **quadrillage**, on peut utiliser des **flèches**.



Observe le chemin suivi par le chat pour attraper la souris.