

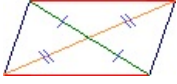
## Fiche

Un **quadrilatère** a 4 côtés, 4 angles et 4 sommets.

Les **diagonales** sont les segments qui joignent les sommets opposés.

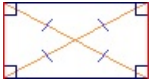
• Le **parallélogramme** a ses **côtés opposés parallèles et égaux**.

Ses diagonales se coupent en leur milieu.



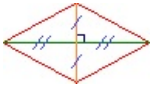
• Le **rectangle** est un parallélogramme qui a **4 angles droits**.

Ses diagonales se coupent en leur milieu et sont égales.



• Le **losange** est un parallélogramme qui a **4 côtés égaux**.

Ses diagonales se coupent en leur milieu et sont perpendiculaires.



• Le **carré** a à la fois les caractéristiques du **rectangle** et celles du **losange**.

